



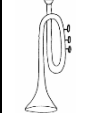
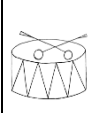


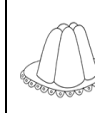



## POČÍTÁME DO 100 – TABULKY A GRAFY

Pozorně si tabulku prohlédni a odpověz na úkoly uvedené pod tabulkou.

Počet předmětů v tabulce poznáš podle vybarvených obdélníků.

|     |   |   |   |   |   |   |  |   |   |   |
|-----|---|---|---|---|---|---|--|---|---|---|
| 100 |   |   |   |   |   |   |  |   |   | ←   |
| 90  |   |   |   |   |   |   |  |   | ←   |   |
| 80  |   |   |   |   |   |   |  | ←   |   |   |
| 70  |   |   |   |   |   | ←   |  |   |   |   |
| 60  |   |   |   |   | ←   |   |  |   |   |   |
| 50  |   |   |   | ←   |   |   |  |   |   |   |
| 40  |   |   | ←   |   |   |   |  |   |   |   |
| 30  |   | ←   |   |   |   |   |  |   |   |   |
| 20  | ←   |   |   |   |   |   |  |   |   |   |
| 10  | ←   |   |   |   |   |   |  |   |   |   |
|     |  |  |  |  |  |  |  |  |  |  |

### Úkoly:

Doplň čísla podle tabulky.

1. Klíčů je 30.
2. Dortů je 80.
3. Trumpet je 50.
4. Bábovek je 90.
5. Kterých předmětů je nejvíce? AKTOVEK

*Autorem materiálu, všech jeho částí a použitých obrázků, není-li uvedeno jinak, je Věra Kundratová.*

*Dostupné z Metodického portálu [www.rvp.cz](http://www.rvp.cz), ISSN: 1802-4785.*

*Provozuje Národní ústav pro vzdělávání, školské poradenské zařízení a zařízení pro další vzdělávání pedagogických pracovníků (NÚV).*

6. Kterých předmětů je nejméně? PSŮ

7. Doplň znaky více – méně > <

NŮŽKY < BÁBOVKY

BUBNY > KOČKY

DORTY > KLÍČE

PSI < DŽBÁNY

8. Počítej 😊

$$20 + 40 = 60$$

$$30 - 10 = 20$$

$$100 - 40 = 60$$

$$60 + 20 = 80$$

$$70 - 50 = 20$$

$$80 + 10 = 90$$

$$50 + 50 = 100$$

$$90 - 60 = 30$$

$$60 - 30 = 30$$

$$40 + 30 = 70$$

$$100 - 20 = 80$$

$$30 + 70 = 100$$

$$30 + 10 = 40$$

$$80 - 30 = 50$$

$$40 - 40 = 0$$

9. Počítej 😊 😊

$$10 + 20 + 50 - 30 = 50$$

$$70 + 20 - 10 - 30 = 50$$

$$20 + 20 + 30 + 30 = 100$$

$$60 - 10 + 50 - 100 = 0$$

$$30 + 30 + 30 - 0 = 90$$

$$10 + 50 + 40 - 60 = 40$$

$$80 - 20 - 30 + 20 = 50$$

$$90 - 50 + 40 + 10 = 90$$

$$40 + 30 + 10 - 50 = 30$$

10. Počítej 😊 😊 😊

$$50 + 20 + 20 - 30 - 50 + 80 + 10 - 0 - 70 - 10 = 20$$

*Autorem materiálu, všech jeho částí a použitých obrázků, není-li uvedeno jinak, je Věra Kundratová.*

*Dostupné z Metodického portálu [www.rvp.cz](http://www.rvp.cz), ISSN: 1802-4785.*

*Provozuje Národní ústav pro vzdělávání, školské poradenské zařízení a zařízení pro další vzdělávání pedagogických pracovníků (NÚV).*