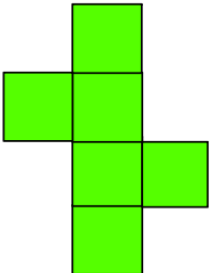

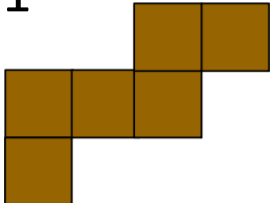
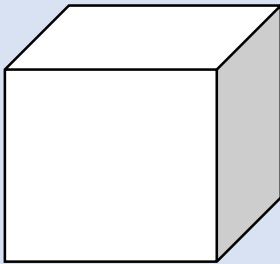
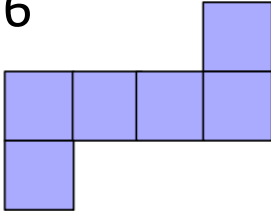
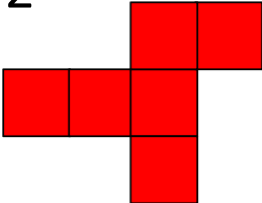
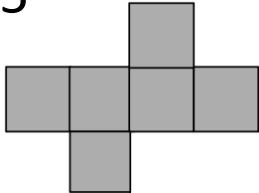

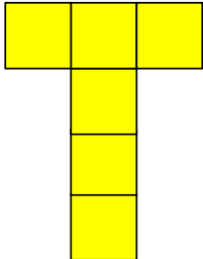

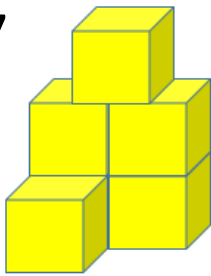
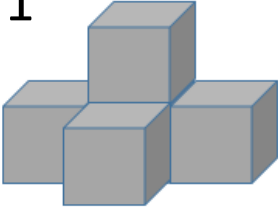
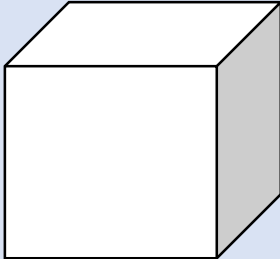
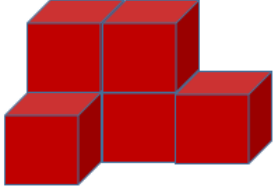
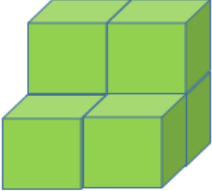
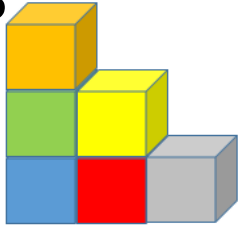
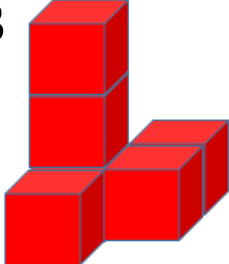
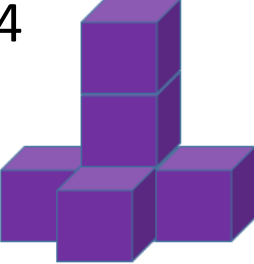


<p><b>Prostorové hádanky</b></p>	<p>8</p> 	<p>7</p> 	<p>A</p>
<p>1</p> 	<p><b>Sít'</b></p> 		<p>6</p> 
<p>2</p> 			<p>5</p> 
<p>Označ sít', ze které nejde složit krychle.</p>	<p>3</p> 	<p>4</p> 	<p>?</p>

*Autorem materiálu, všech jeho částí a nakreslených obrázků, není-li uvedeno jinak,  
je Mgr. Petra Cemerková Golová.*

*Dostupné z Metodického portálu [www.rvp.cz](http://www.rvp.cz), ISSN: 1802-4785.*

*Provozuje Národní ústav pro vzdělávání, školské poradenské zařízení a zařízení pro další vzdělávání  
pedagogických pracovníků (NÚV).*

<p><b>Prostorové hádanky</b></p>	<p>8 </p>	<p>7 </p>	<p><b>B</b></p>
<p>1 </p>	<p><b>Stavby</b></p> 		<p>6 </p>
<p>2 </p>			<p>5 </p>
<p>Kterou stavbu netvoří 6 těles?</p>	<p>3 </p>	<p>4 </p>	<p><b>?</b></p>

*Autorem materiálu, všech jeho částí a nakreslených obrázků, není-li uvedeno jinak,  
je Mgr. Petra Cemerková Golová.*

*Dostupné z Metodického portálu [www.rvp.cz](http://www.rvp.cz), ISSN: 1802-4785.*

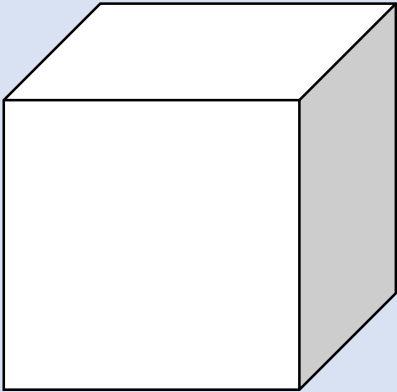
*Provozuje Národní ústav pro vzdělávání, školské poradenské zařízení a zařízení pro další vzdělávání  
pedagogických pracovníků (NÚV).*

Prostorové hádanky	A	H	C
M	Osová souměrnost		B
O			D
Které písmeno není osově souměrné?	E	U	?

*Autorem materiálu, všech jeho částí a nakreslených obrázků, není-li uvedeno jinak,  
je Mgr. Petra Cemerková Golová.*

*Dostupné z Metodického portálu [www.rvp.cz](http://www.rvp.cz), ISSN: 1802-4785.*







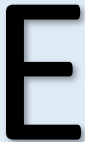

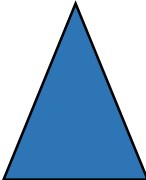






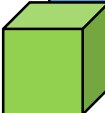
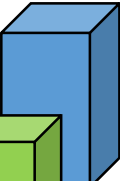





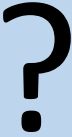
*Provozuje Národní ústav pro vzdělávání, školské poradenské zařízení a zařízení pro další vzdělávání  
pedagogických pracovníků (NÚV).*

<b>Prostorové hádanky</b>	8 Stěn: 6 Hran: 8 Vrcholů: 8	7 Stěn: 6 Hran: 6 Vrcholů: 8	<b>D</b>
1 Stěn: 9 Hran: 9 Vrcholů: 6		6 Stěn: 6 Hran: 6 Vrcholů: 6	
2 Stěn: 8 Hran: 8 Vrcholů: 8		5 Stěn: 6 Hran: 12 Vrcholů: 8	
Které políčko je správné?	3 Stěn: 6 Hran: 12 Vrcholů: 12	4 Stěn: 8 Hran: 12 Vrcholů: 6	<b>?</b>

*Autorem materiálu, všech jeho částí a nakreslených obrázků, není-li uvedeno jinak, je Mgr. Petra Cemerková Golová.*

*Dostupné z Metodického portálu [www.rvp.cz](http://www.rvp.cz), ISSN: 1802-4785.*




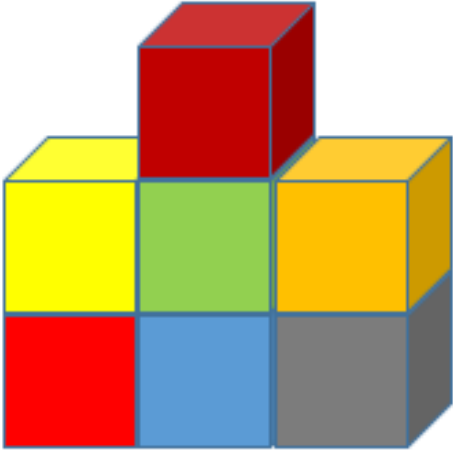





*Provozuje Národní ústav pro vzdělávání, školské poradenské zařízení a zařízení pro další vzdělávání pedagogických pracovníků (NÚV).*

<b>Prostorové hádanky</b>	8   	7   	
1   	<h1 style="text-align: center;">Tvary</h1>		6   
2  			5   
<b>Které pole mezi ostatní nepatří?</b>	3  	4  	

*Autorem materiálu, všech jeho částí a nakreslených obrázků, není-li uvedeno jinak, je Mgr. Petra Cemerková Golová.*

*Dostupné z Metodického portálu [www.rvp.cz](http://www.rvp.cz), ISSN: 1802-4785.*

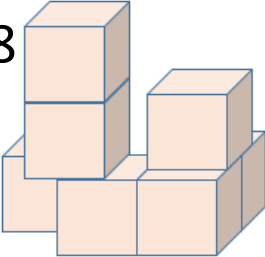
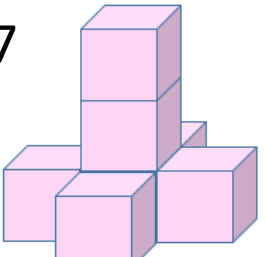
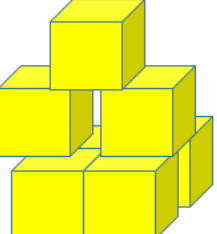
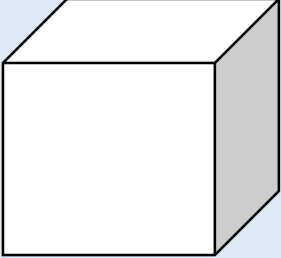
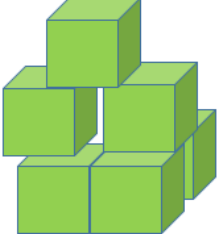
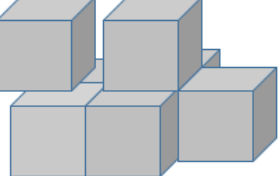
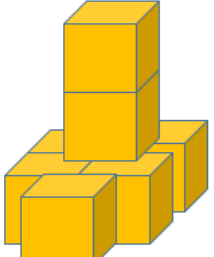
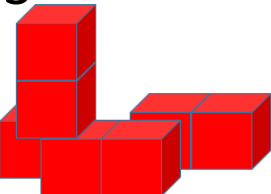
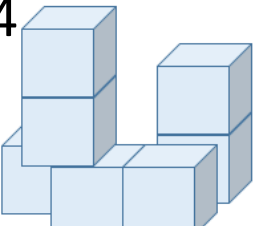
*Provozuje Národní ústav pro vzdělávání, školské poradenské zařízení a zařízení pro další vzdělávání pedagogických pracovníků (NÚV).*

<b>Prostorové hádanky</b>	<b>8</b> 	<b>7</b> 	<b>F</b>
<b>1</b> 		<b>6</b> 	
<b>2</b> 		<b>5</b> 	
<b>Jak stavba vypadá zespodu?</b>	<b>3</b> 	<b>4</b> 	<b>?</b>

*Autorem materiálu, všech jeho částí a nakreslených obrázků, není-li uvedeno jinak, je Mgr. Petra Cemerková Golová.*

*Dostupné z Metodického portálu [www.rvp.cz](http://www.rvp.cz), ISSN: 1802-4785.*

*Provozuje Národní ústav pro vzdělávání, školské poradenské zařízení a zařízení pro další vzdělávání pedagogických pracovníků (NÚV).*

<p><b>Prostorové hádanky</b></p>	<p>8</p> 	<p>7</p> 	<p><b>G</b></p>
<p>1</p> 	<p><b>Stavby</b></p> 	<p>6</p> 	
<p>2</p> 		<p>5</p> 	
<p>Kterou stavbu netvoří 7 těles?</p>	<p>3</p> 	<p>4</p> 	<p><b>?</b></p>

*Autorem materiálu, všech jeho částí a nakreslených obrázků, není-li uvedeno jinak,  
je Mgr. Petra Cemerková Golová.*

*Dostupné z Metodického portálu [www.rvp.cz](http://www.rvp.cz), ISSN: 1802-4785.*

*Provozuje Národní ústav pro vzdělávání, školské poradenské zařízení a zařízení pro další vzdělávání  
pedagogických pracovníků (NÚV).*