



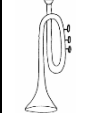
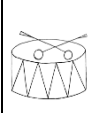


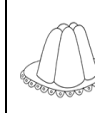



POČÍTÁME DO 100 – TABULKY A GRAFY

Pozorně si tabulku prohlédni a odpověz na úkoly uvedené pod tabulkou.

Počet předmětů v tabulce poznáš podle vybarvených obdélníků.

100										←
90									←	
80								←		
70						←				
60						←				
50					←					
40				←						
30			←							
20		←								
10	←									
										

Úkoly:

Doplň čísla podle tabulky

1. Klíčů je _____.

2. Dortů je _____.

3. Trumpet je _____.

4. Bábovek je _____.

5. Kterých předmětů je nejvíce? _____

Autorem materiálu, všech jeho částí a použitých obrázků, není-li uvedeno jinak, je Věra Kundratová.

Dostupné z Metodického portálu www.rvp.cz, ISSN: 1802-4785.

Provozuje Národní ústav pro vzdělávání, školské poradenské zařízení a zařízení pro další vzdělávání pedagogických pracovníků (NÚV).

6. Kterých předmětů je nejméně? _____

7. Doplň znaky více – méně > <

NŮŽKY BÁBOVKY

BUBNY KOČKY

DORTY KLÍČE

PSI DŽBÁNY

8. Počítej 😊

$$20 + 40 = \qquad 30 - 10 = \qquad 100 - 40 =$$

$$60 + 20 = \qquad 70 - 50 = \qquad 80 + 10 =$$

$$50 + 50 = \qquad 90 - 60 = \qquad 60 - 30 =$$

$$40 + 30 = \qquad 100 - 20 = \qquad 30 + 70 =$$

$$30 + 10 = \qquad 80 - 30 = \qquad 40 - 40 =$$

9. Počítej 😊 😊

$$10 + 20 + 50 - 30 = \qquad 70 + 20 - 10 - 30 = \qquad 20 + 20 + 30 + 30 =$$

$$60 - 10 + 50 - 100 = \qquad 30 + 30 + 30 - 0 = \qquad 10 + 50 + 40 - 60 =$$

$$80 - 20 - 30 + 20 = \qquad 90 - 50 + 40 + 10 = \qquad 40 + 30 + 10 - 50 =$$

10. Počítej 😊 😊 😊

$$50 + 20 + 20 - 30 - 50 + 80 + 10 - 0 - 70 - 10 =$$

Autorem materiálu, všech jeho částí a použitých obrázků, není-li uvedeno jinak, je Věra Kundratová.

Dostupné z Metodického portálu www.rvp.cz, ISSN: 1802-4785.

Provozuje Národní ústav pro vzdělávání, školské poradenské zařízení a zařízení pro další vzdělávání pedagogických pracovníků (NÚV).